

ВСЕРОССИЙСКАЯ ОЛИМПИАДА ШКОЛЬНИКОВ

ПО ТЕХНОЛОГИИ

МУНИЦИПАЛЬНЫЙ ЭТАП

" 5 " ДЕКАБРЯ 2020 г.

ШИФР 17-8

ОЛИМПИАДНАЯ РАБОТА

УЧЕНИ 461 7 КЛАССА

ХАБАРСКОГО РАЙОНА
(наименование муниципалитета)

МБОУ "МАРГОВСКАЯ СОШ"
(наименование образовательной организации)

ЗАБЕЛИНОЙ ОЛЕСИ ДМИТРИЕВНЫ
(Фамилия Имя Отчество участника)

Учитель участника по предмету:

ИЩЕНКО Ю.В

Культура дома, дизайн и технологии
Таблица результатов оценивания теоретического тура
(7-8 класс)

Номер задания	Максимальное количество баллов	Полученные баллы
1	1	1
2	1	0
3	1	0
4	1	1
5	1	1
6	1	1
7	1	0
8	1	1
9	1	1
10	1	1
11	1	1
12	1	1
13	1	1
14	1	1
15	1	0
16	10	0
Общий балл	25	11

Председатель жюри: Степел (Томашенко С.В.)

Члены жюри:

Васильев (Шенко Ю.В.)

Мухоморов (Колесникова Л.И.)

Васильев (Томашенко С.В.)

Васильев (Савельев К.А.)

Муниципальный этап Всероссийской олимпиады школьников по технологии 2020/2021 учебного года
Номинация «Культура дома, дизайн и технологии»
7-8 класс.

Тестовые задания для муниципального этапа Всероссийской олимпиады школьников по
технологии 2020/2021 учебного года
Номинация «Культура дома, дизайн и технологии»
7-8 класс.

Максимальное количество баллов - 25

1. Образовательная область «Технология» изучает

(отметьте знаком + правильный ответ)

- а) технологии автостроения
- 1 б) технологии медицинского приборостроения
- в) технологии самолетостроения
- + г) технологии преобразования материалов, энергии и информации

2. Какие волокна имеют наибольшую гигроскопичность:

(отметьте знаком + правильный ответ)

- а) лен;
- 0 б) лавсан;
- в) шерсть;
- + г) шелк.

3. Клетки живого организма строятся из:

(отметьте знаком + правильный ответ)

- а) аминокислот;
- 0 б) солей;
- + в) витаминов;
- г) белков;
- д) жиров.

4. К сфере деятельности «человек-человек» можно отнести следующие профессии:

(отметьте знаком + правильные ответы)

- а) автомеханик;
- + б) учитель;
- 1 в) ветеринар;
- г) машинист поезда;
- + д) стюардесса;
- е) лесник.

5. Родиной кофе являются:

(отметьте знаком + правильный ответ)

- а) Турция;
- 1 б) Монголия;
- + в) Эфиопия;
- г) Китай;
- д) Япония.

6. По конструкции юбки бывают:

(отметьте знаком + правильные ответы)

- + а) конические
- 1 б) косые;
- в) диагональные;
- + г) прямые.

7. Какие изображения выявляют видимые части формы детали:

(отметьте знаком + правильный ответ)

- 0 + а) разрезы;

- б) виды;
- в) сечения;
- г) изометрическая проекция;
- д) схемы.

8. К соединительным швам относятся:

(отметьте знаком + правильный ответ)

- 1 +а) стачной шов;
- б) шов вподгибку;
- в) расстрочной шов;
- г) окантовочный шов.

9. Для построения чертежа конической юбки необходимы следующие мерки:

(отметьте знаком + правильные ответы)

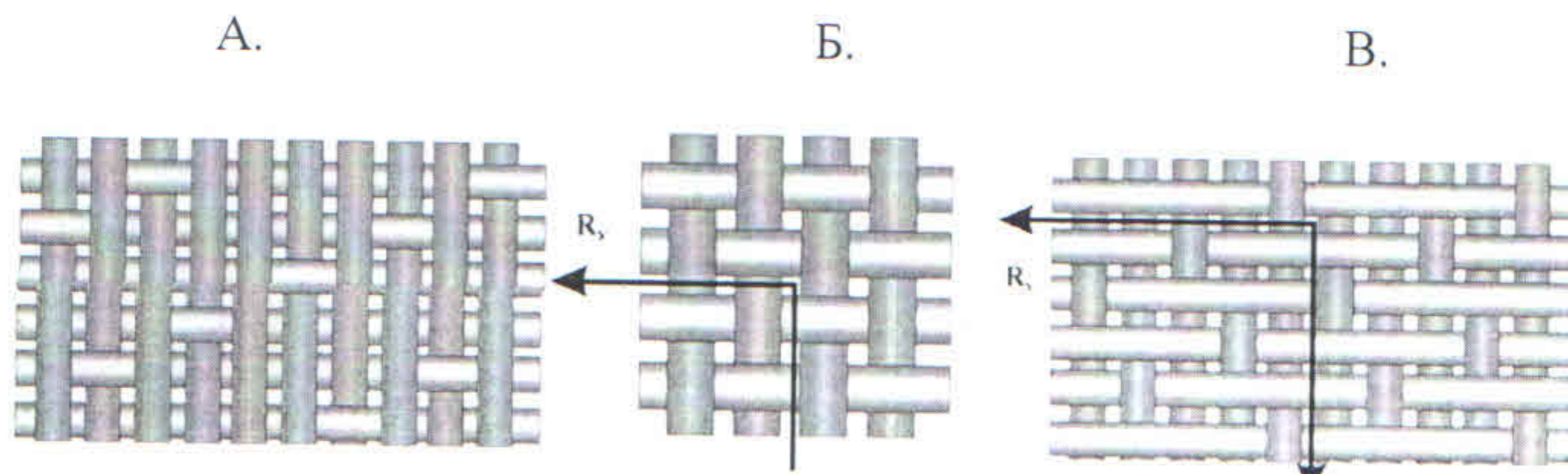
- а) обхват плеча Оп;
- б) полуобхват груди Сг I
- 1 +в) полуобхват талии Ст
- +г) полуобхват бедер Сб

10. Какой линией чертежа по ГОСТу показывают линию сгиба:

(отметьте знаком + правильный ответ)

- а) сплошная волнистая;
- б) штрихпунктирная основная;
- 1 +в) штрихпунктирная с двумя точками;
- г) штриховая;
- в) сплошная тонкая.

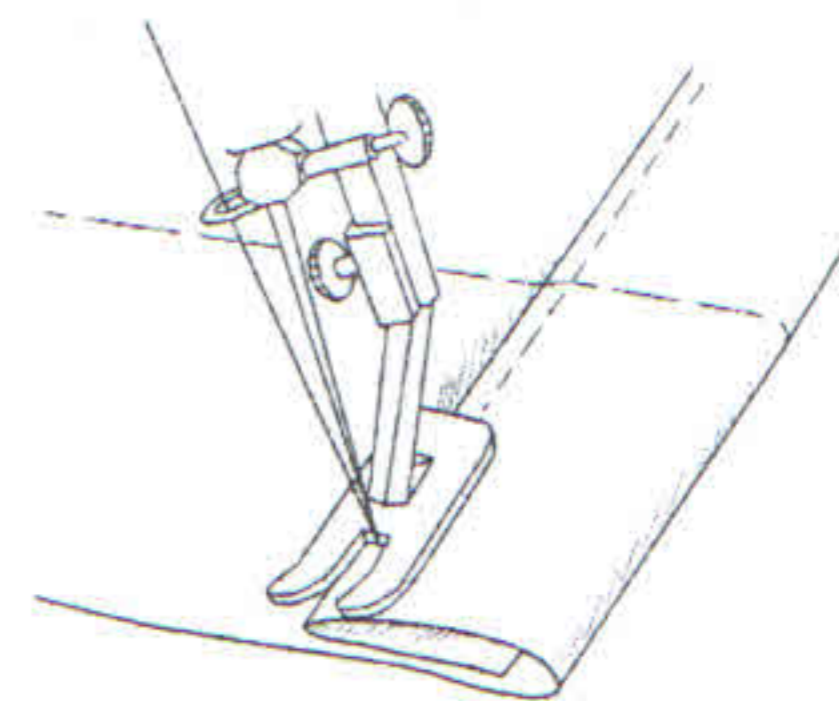
11. На каком рисунке изображено полотняное переплетение?



1 Ответ: Б

12. Какой машинный шов показан на картинке?

- А. Шов в подгибку с закрытым срезом
- Б. Шов в подгибку с открытым срезом



1 Ответ: А

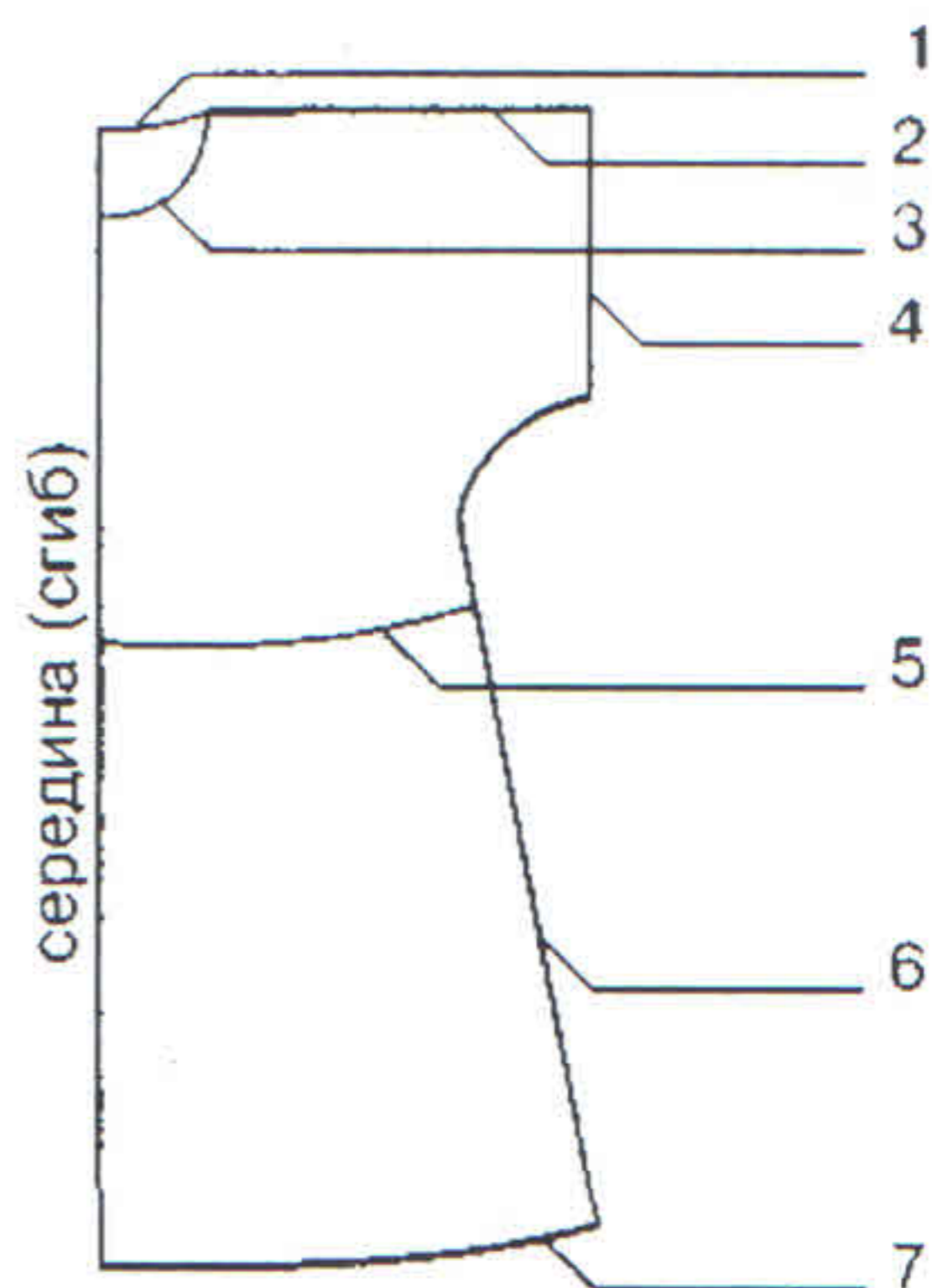
13. Напишите условное обозначение мерки.

- 1. Полуобхват бедер —.....
- 2. Длина изделия —.....
- 3. Ширина груди —.....
- 4. Полуобхват шеи —.....

1 Ответ: 1. Сб 2. ДИ 3. ШГ. 4. СШ

14. Дайте название конструктивным линиям и срезам плечевого изделия.

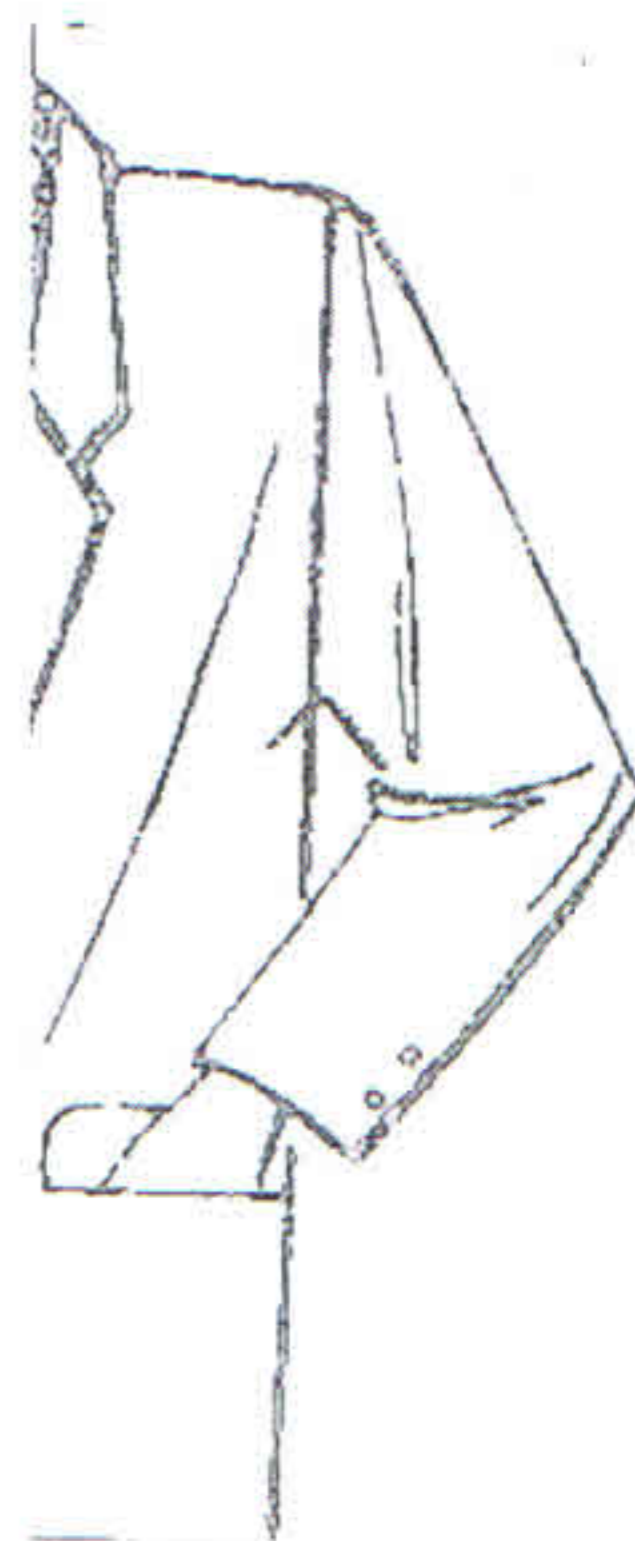
- Ответ: 1) Горловина стинки +
2) Линия плеча +
3) Горловина переда +
4) Линия талии низа рукава +
5) Линия талии +
6) Линия бока +
7) Линия низа изделия +



15. Какой покрой рукава показан на картинке?

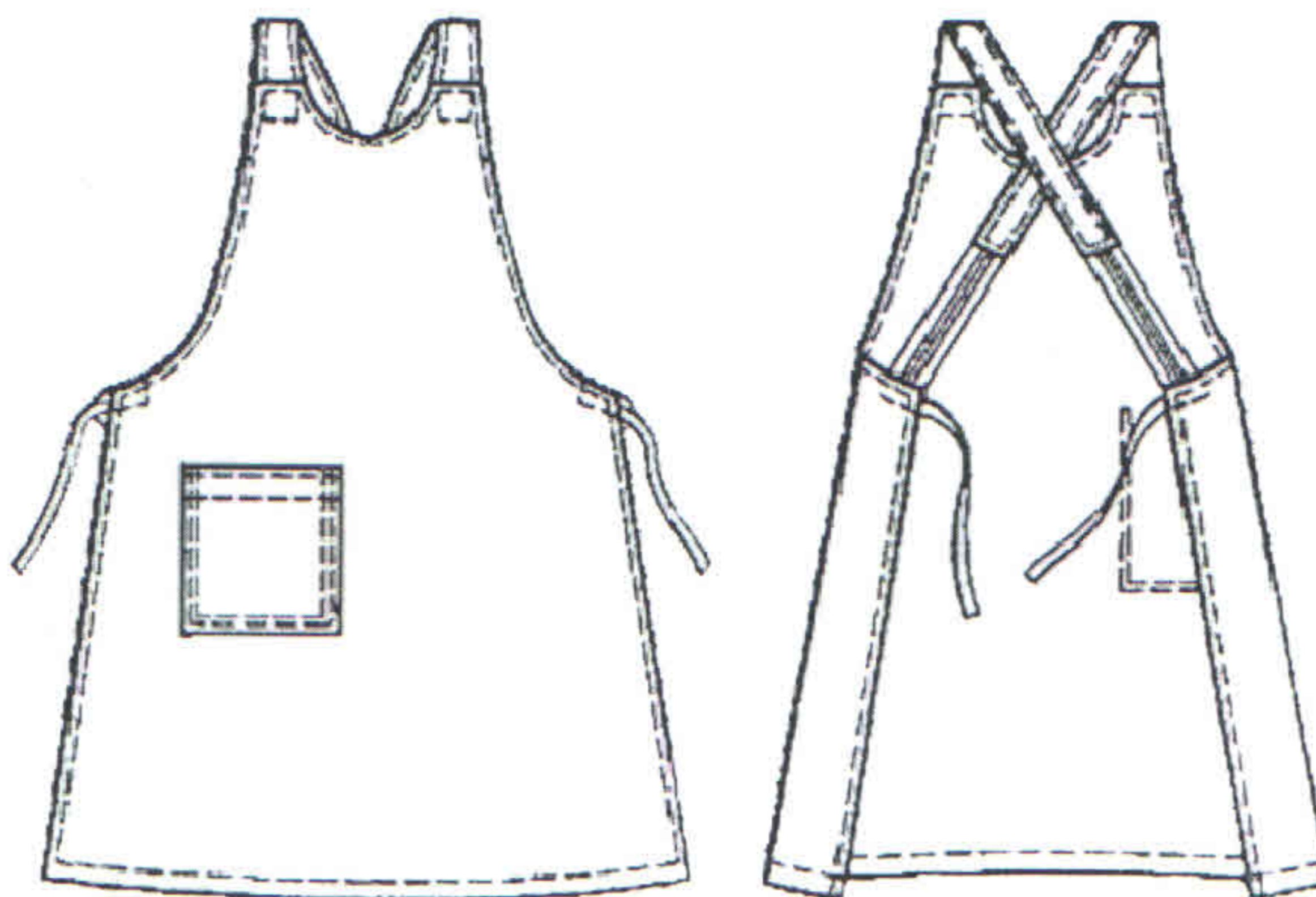
- А. Цельнокроенный
Б. Втачной
В. Реглан

Ответ: В




16. Творческое задание

Вам предложена модель детского фартука для рукоделия (виды спереди и сзади).
 Выполните следующие задания:



№	Описание заданий	Выполнение заданий	балл	оценка
1	Выполните детали кроя этого изделия		3	0

Муниципальный этап Всероссийской олимпиады школьников по технологии 2020/2021 учебного года
 Номинация «Культура дома, дизайн и технологии»
 7-8 класс.

2	Запишите названия деталей и их количество	1) минималка застёжка (1 деталь) 2) деталь манжетки (2 детали) 3) деталь кармашка (2 детали) 4) деталь бретелей (2 детали) 5) деталь пояса (1 деталь)	1	0
3	Сделайте описание модели по следующему плану:	наименование и назначение изделия <u>Детский фартук.</u> Тип рукоделия не шитьё одежды силуэт, покрой <u>Отрезной фартук с манжетками</u> вид застёжки, конструктивные особенности <u>Пояс</u>	2	0
4	Какими свойствами должен обладать материал, из которого его можно сшить? Предложите такие материалы	<u>Водопроницаемым, не пропускает</u> <u>через фартук не отпечатывается</u> <u>грязь на одежду.</u>	1	0
5	Перечислите инструменты и оборудование, необходимые для изготовления данного изделия	<u>Швейная машина, ножницы, бу-</u> <u>лавки, иглы</u>	1	0
6	Предложите элементы декора для этой модели. Выполните эскиз модели с декором	Декор <u>Цветок на карман из тразарета.</u> 	2	0

ВСЕРОССИЙСКАЯ ОЛИМПИАДА ШКОЛЬНИКОВ

ПО технологии

МУНИЦИПАЛЬНЫЙ ЭТАП

" 5 " **ДЕКАБРЯ** 2020 г.

ШИФР м 7-3

ОЛИМПИАДНАЯ РАБОТА

УЧЕНИ цы 7 КЛАССА

Хабарский район

(наименование муниципалитета)

МБОУ "Средняя школа СОШ"

(наименование образовательной организации)

Часовских Карина Александровна

(Фамилия Имя Отчество участника)

Учитель участника по предмету:

Савенко Елена Ивановна

Культура дома, дизайн и технологии

**Таблица результатов оценивания теоретического тура
(7-8 класс)**

Номер задания	Максимальное количество баллов	Полученные баллы
1	1	0
2	1	0
3	1	0
4	1	0
5	1	0
6	1	1
7	1	0
8	1	0
9	1	0
10	1	0
11	1	1
12	1	0
13	1	1
14	1	0
15	1	1
16	10	6
Общий балл	25	10

Председатель жюри: С.В.Л. (Лышченко С.В.)

Члены жюри:

М.В.С. (Шенко Я.В.)

М.В.С. (Савенко Е.И.)

В.В.С. (Савенко Е.И.)

В.В.С. (Савенко Е.И.)

Муниципальный этап Всероссийской олимпиады школьников по технологии 2020/2021 учебного года
Номинация «Культура дома, дизайн и технологии»
7-8 класс.

Тестовые задания для муниципального этапа Всероссийской олимпиады школьников по
технологии 2020/2021 учебного года
Номинация «Культура дома, дизайн и технологии»
7-8 класс.

Максимальное количество баллов - 25

Образовательная область «Технология» изучает

отметьте знаком + правильный ответ)

а) технологии автостроения

0 б) технологии медицинского приборостроения

в) технологии самолетостроения

г) технологии преобразования материалов, энергии и информации +

2. Какие волокна имеют наибольшую гигроскопичность:

отметьте знаком + правильный ответ)

а) лен; +

0 б) лавсан;

в) шерсть;

г) шелк.

3. Клетки живого организма строятся из:

(отметьте знаком + правильный ответ)

а) аминокислот; +

б) солей;

0 в) витаминов;

г) белков;

д) жиров.

4. К сфере деятельности «человек-человек» можно отнести следующие профессии:

(отметьте знаком + правильные ответы)

а) автомеханик; +

б) учитель; +

0 в) ветеринар;

г) машинист поезда;

д) стюардесса;

е) лесник.

5. Родиной кофе являются:

(отметьте знаком + правильный ответ)

а) Турция;

0 б) Монголия; +

в) Эфиопия;

г) Китай;

д) Япония.

6. По конструкции юбки бывают:

(отметьте знаком + правильные ответы)

а) конические +

б) косые;

1 в) диагональные;

г) прямые. +

7. Какие изображения выявляют видимые части формы детали:

отметьте знаком + правильный ответ)

а) разрезы; +

- б) виды;
- в) сечения;
- г) изометрическая проекция;
- д) схемы.

8. К соединительным швам относятся:

отметьте знаком + правильный ответ)

- а) стачной шов;
- б) шов вподгибку;
- в) расстрочной шов; +
- г) окантовочный шов.

9. Для построения чертежа конической юбки необходимы следующие мерки:

(отметьте знаком + правильные ответы)

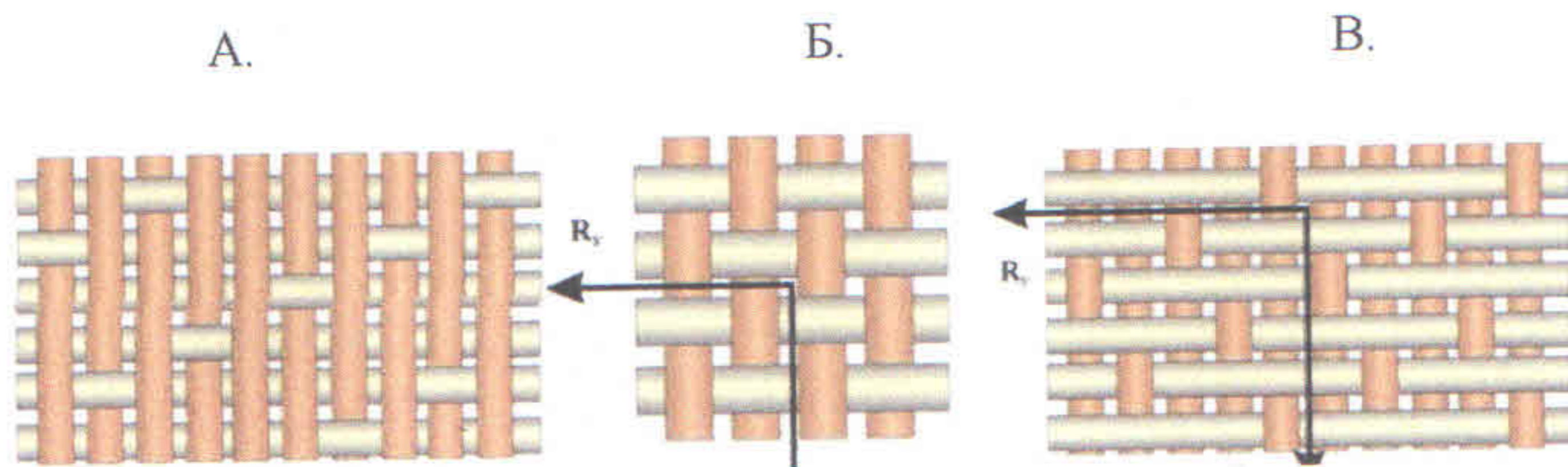
- а) обхват плеча Оп;
- б) полуобхват груди Сг I +
- в) полуобхват талии Ст
- г) полуобхват бедер Сб +

10. Какой линией чертежа по ГОСТу показывают линию сгиба:

отметьте знаком + правильный ответ)

- а) сплошная волнистая;
- б) штрихпунктирная основная;
- в) штрихпунктирная с двумя точками;
- г) штриховая; +
- в) сплошная тонкая.

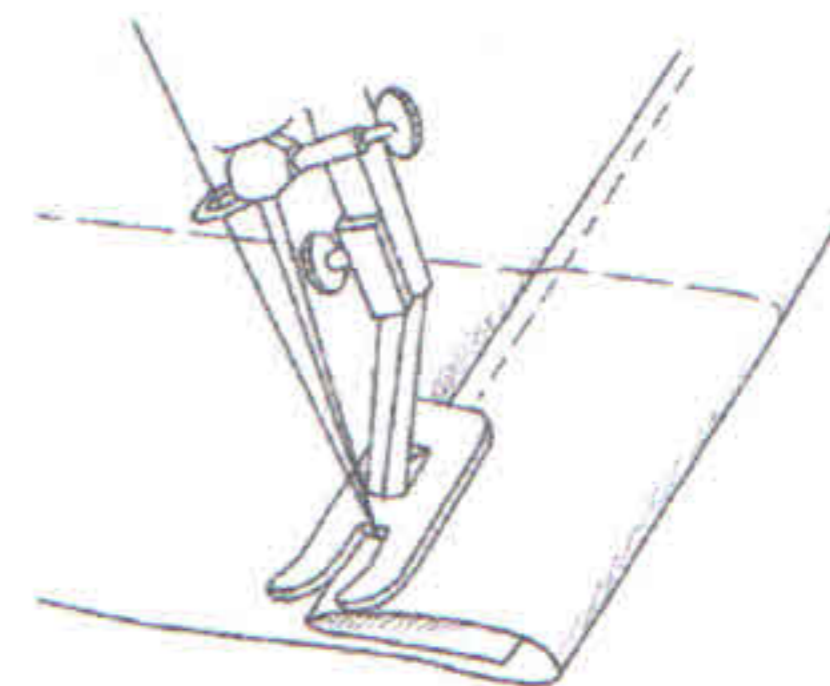
11. На каком рисунке изображено полотняное переплетение?



Ответ: Б

12. Какой машинный шов показан на картинке?

- А. Шов в подгибку с закрытым срезом
- Б. Шов в подгибку с открытым срезом



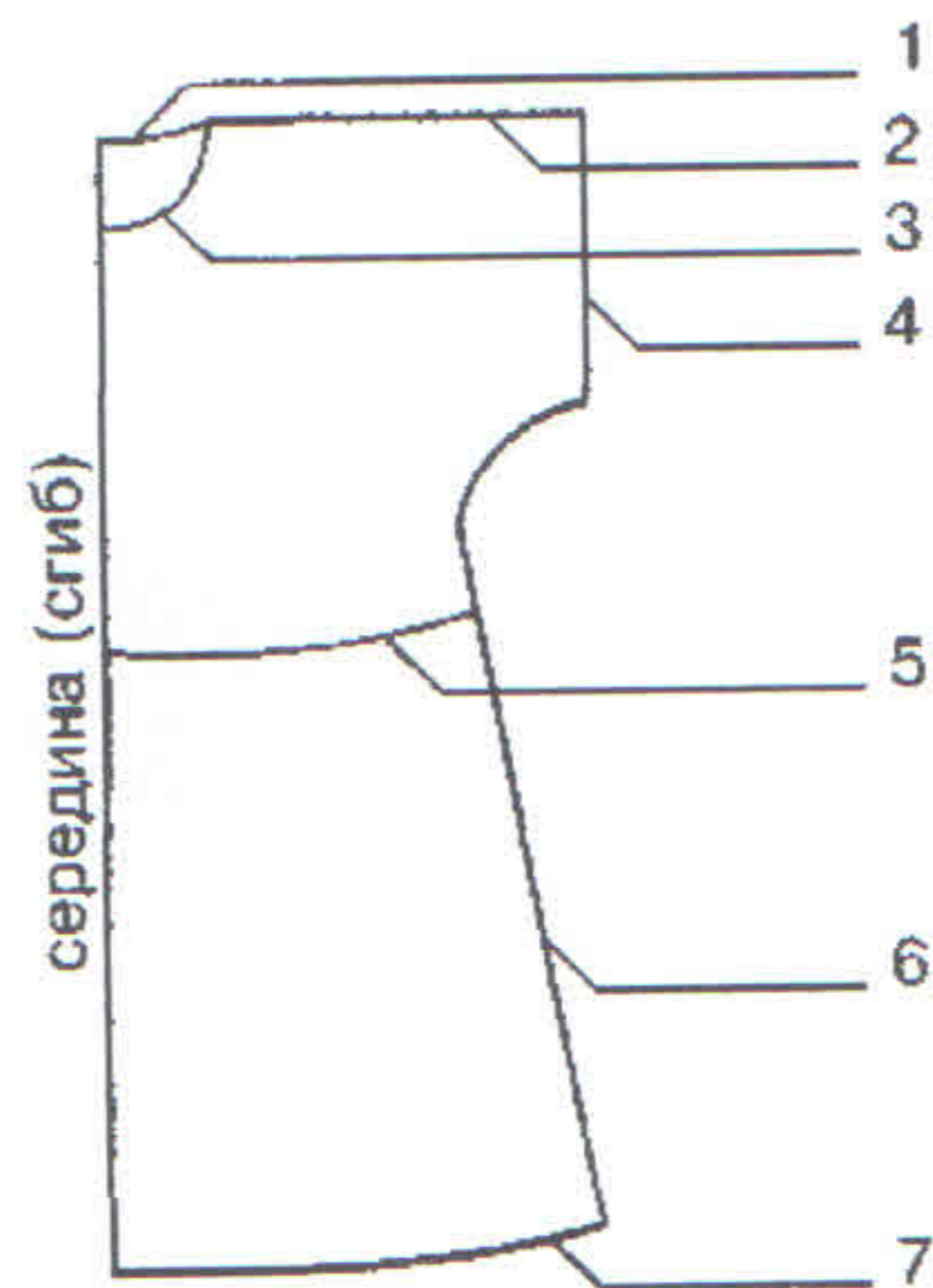
13. Напишите условное обозначение мерки.

- 1. Полуобхват бедер — Сб
- 2. Длина изделия — Дл
- 3. Ширина груди — Шг
- 4. Полуобхват шеи — Сш

О
Г
В
Е
Т

0 *Дайте название конструктивным линиям
и срезам плечевого изделия.*

Ответ: прямые



1 *Какой покрой рукава показан на картинке?*

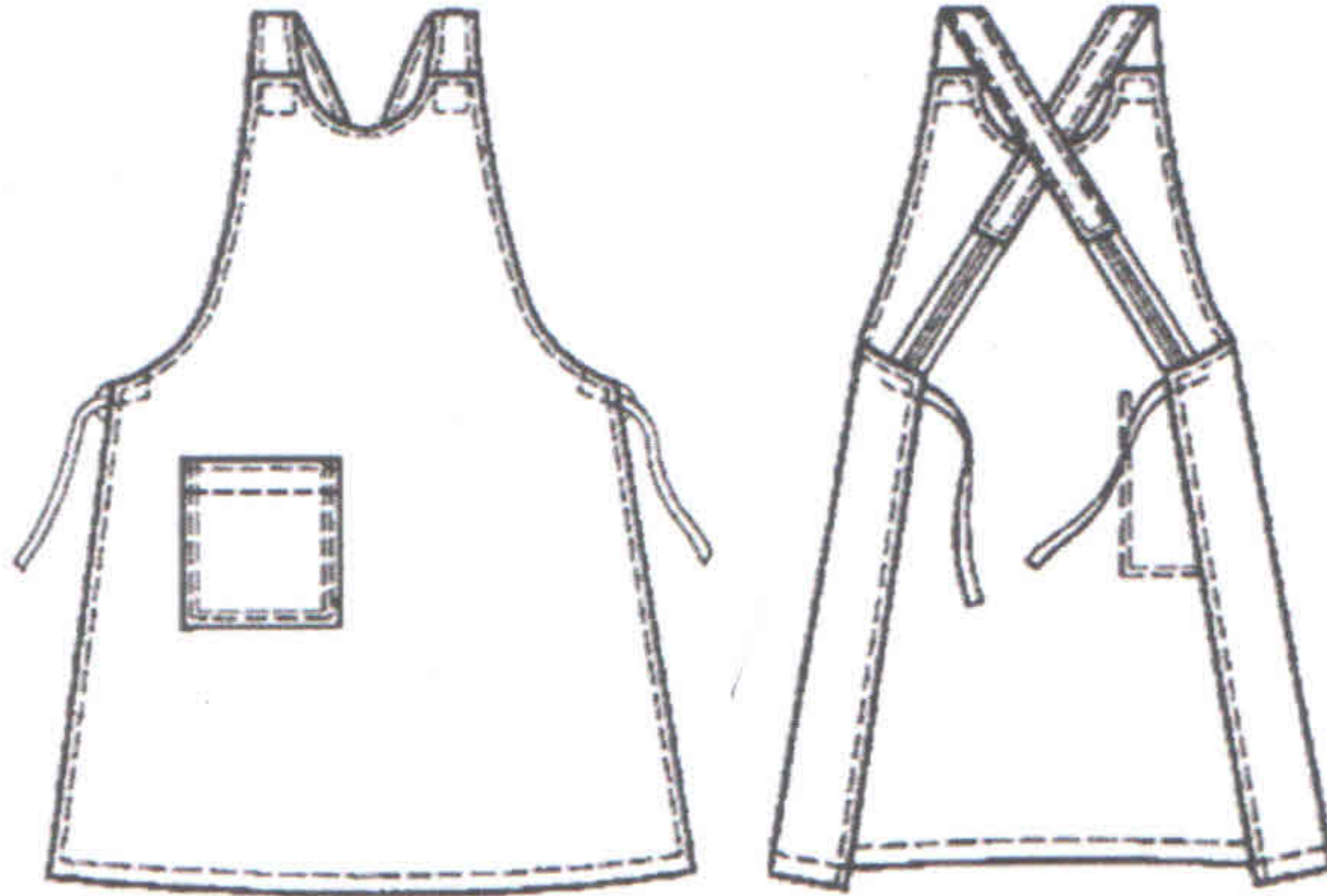
- А. Цельнокроенный
- Б. Втачной
- В. Реглан

Ответ: втачной




16. Творческое задание

Вам предложена модель детского фартука для рукоделия (виды спереди и сзади).
 Выполните следующие задания:



№	Описание заданий	Выполнение заданий	балл	оценка
1	Выполните детали кроя этого изделия		3	3

Муниципальный этап Всероссийской олимпиады школьников по технологии 2020/2021 учебного года
 Номинация «Культура дома, дизайн и технологии»
 7-8 класс.

2	Запишите названия деталей и их количество	Корман ляжки пояс основание фартука	1	1
3	Сделайте описание модели по следующему плану:	наименование и назначение изделия фартук, назначение - защитить одежду от загрязнения _____ силуэт, покрой _____ _____ вид застёжки, конструктивные особенности пояс который завязывается. _____ _____	2	0
4	Какими свойствами должен обладать материал, из которого его можно сшить? Предложите такие материалы	хлопчатобумажные _____ _____ _____ _____	1	0
5	Перечислите инструменты и оборудование, необходимые для изготовления данного изделия	ножницы, иголка, нить, ткань швейная машинка _____ _____ _____	1	0
6	Предложите элементы декора для этой модели. Выполните эскиз модели с декором	Декор кружева, лента 	2	2

Итого: 105