

Всероссийская олимпиада школьников по географии

Алтайский край

Муниципальный этап, 2020-2021 г.г.

11 класс

Общее время для выполнения заданий муниципального этапа Олимпиады составляет около 3 астрономических часа.

Сумма баллов за все правильные ответы теоретического раунда – 50 баллов.

Сумма баллов за все правильные ответы тестового раунда – 20 баллов.

Общая сумма баллов за 2 раунда – 70 баллов.

Использование любых справочных материалов и карт не допускается.

Для ответов на вопросы по карте можно пользоваться линейкой, транспортиром, простым калькулятором.

Ответы на вопросы теоретического и тестового раундов записываются на листах для ответа и сдаются дежурному по аудитории.

СВЕДЕНИЕ ОБ УЧАСТНИКЕ ОЛИМПИАДЫ

ФАМИЛИЯ	Точнев
ИМЯ	Артём
ОТЧЕСТВО	Дмитриевич
КЛАСС	11 класс
ШКОЛА	МБОУ, Кабардинская СШ №1
КРАЙ, РАЙОН, ГОРОД / ПОСЕЛОК /СЕЛО	Алтайский край, Кабардинский район, с. Кабардо

ТЕОРЕТИЧЕСКИЙ РАУНД 23,4

ТЕСТОВЫЙ РАУНД 13,25

ОБЩЕЕ КОЛИЧЕСТВО БАЛЛОВ 36,65

ФИО ЧЛЕНОВ ЖЮРИ:

Савыченко В.Н. - Связь -

Мотыгина С.А. -

Алдушина М.Р. -

Телькина Л.К. -



Индия 16 Перцовый берег ~~Антарктика~~

Задача 3. Прочитайте внимательно текст. В указанных скобках запишите правильный ответ.

А) Назовите страну (Россия), которая омывается водами крупнейшего озера мира (Каспийское море).  
 Б) Назовите другое озеро (Аральское море), располагающееся на границе с южным соседним государством (Казахстан). Это озеро значительно сократилось по площади во второй половине XX века в результате хозяйственной деятельности.

В) Ещё одно озеро (Ваннаш 16), известно тем, что одна его половина пресная, а другая – солёная.

Г) По запасам этого стратегического природного ресурса (Уран 18) стране мало равных в мире, но по международным соглашениям обогащением и переработкой вместе с местными производителями занимаются предприятия другого государства (Казахстан).

Д) В центре этой страны располагается известный в мире космодром (Восточный Байконур 18).

Е) Столица страны (Даммам) не является крупнейшим городом по численности населения по сравнению с (Мекка).

ТЕОРЕТИЧЕСКИЙ РАУНД 11 КЛАСС

Задача 1. Запишите в таблицу страны, где большая часть населения относится к определенной конфессии.

Для выполнения задания воспользуйтесь предложенным списком стран.

Список стран: Иран, Кипр, Пакистан, Греция, Болгария, Сомали, Ирландия, Польша, Российская Федерация, Монголия, Таиланд, Филиппины, Шри-Ланка, Мьянма, Бахрейн, Бразилия, Сербия, Узбекистан, Армения, Камбоджа, Мавритания, Мальта, Румыния, Венгрия, Австрия.

Православие	Католицизм	Ислам или мусульманство	Буддизм
Российская Федерация Армения Сербия Мальта	Греция Ирландия Италия Польша Венгрия Австрия Мальта	Иран Пакистан Сомали Мьянма Бахрейн Бразилия Мавритания	Монголия Кипр Таиланд Бразилия Индия Мьянма

Задача 2. Географические названия изменчивы. Особенно часто меняются названия государств.

Заполните таблицу, указав современное и старое название государства, а также действующую столицу государства (в тех местах таблицы, где есть пробелы).

Современное название государства	Старое название государства	Действующая столица государства
Япония	Золотой Берег	Токио
Таиланд	Восточная Франция	Бангкок
Палестина	Абиссиния	Иерусалим
Иран	Персия	Тегеран

Теоретический раунд 23,4  
 Местовой раунд 13,25  
 Итого: 36,65

48

96



Задача 4. Прочитайте внимательно текст. В указанных скобках запишите правильный ответ.

А) Эта развитая страна ( Франция ) была колонией европейского государства ( Франция ).

Б) Два главных города страны ( Москва ) и ( Санкт-Петербург ), сейчас являются городами-миллионерами. Они «долго спорили» за столичный статус. В каждом из городов проходила олимпиада.

В) В итоге, между ними была построена другая столица ( Оска ), ныне небольшой по населению город.

Г) Благодаря тому, что месторождения данного вида природного ресурса ( Нефть ) располагаются близко к морским портам, эта страна является главным конкурентом по экспорту современной Российской Федерации.

Д) Государство более 100 лет является одним из самых крупнейших экспортеров в мире этого важного сельскохозяйственного товара ( Молочный продукт ).

Е) Сейчас экспортируется порядка 90% этого товара.

Ж) В стране очень много этнических групп местного населения, хотя численность невелика. Их, как правило, называют одним термином ( Индейцы ).

З) В мире из агропромышленных товаров экспорта известен продукт ( Молочный продукт ), который относительно недавно стал экспортным товаром страны благодаря агроклиматическим особенностям, которые такие же, как в Европе (главном мировом центре). По похожему причинам в мировую двадцатку – тридцатку экспортеров данного товара вошли Аргентина, Чили, ЮАР, США (особенно штат Калифорния).

И) Одним из главных туристических объектов страны и сакральным местом для местного населения является гора или

скальное образование ( Гора Замача ) в центре этого государства.

Задача 5. В последние 25 лет в Российской Федерации отчетливо проявляется следующая миграционная тенденция. Наибольшая миграция населения после Москвы и Московской области наблюдается из большинства регионов России (особенно из северных и восточных) в Санкт-Петербург и его агломерацию. Напишите 10 основных причин, которые способствуют данному перемещению населения.

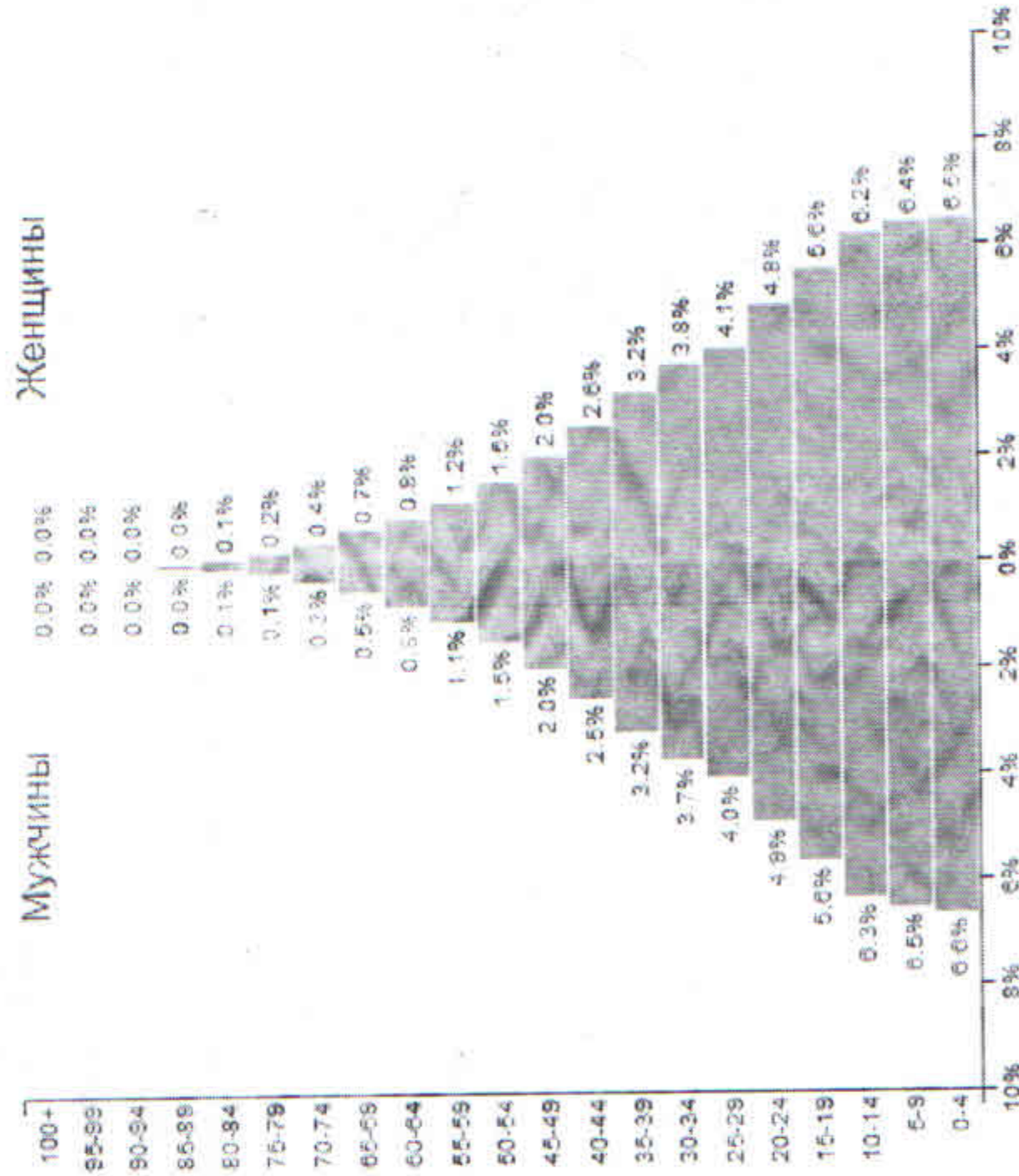
№ п/п	Причины, способствующие перемещению населения в Санкт-Петербург и его агломерацию
1.	Занятость в сфере услуг +
2.	Высокая заработная плата в городе +
3.	Отсутствие вредных условий работы в семье +
4.	Меньше жителя в городе +
5.	Отсутствие работы в семье +
6.	Высокий уровень развития семьи +
7.	Меньше работы в городе +
8.	Высокая стоимость жизни из-за роста цен +
9.	Высокий уровень развития городов +
10.	Высокая политическая слава Санкт-Петербурга +



ТЕСТОВЫЙ РАУНД 11 КЛАСС

Вопрос	Ответ										
<p>1. Выберите одну группу стран мира, где самая высокая плотность населения.</p> <p>А) Таджикистан и Турция                      Б) Бельгия и Великобритания                      В) Румыния и Черногория                      Г) Бразилия и Латвия</p>	<p>В + 16</p>										
<p>2. Выберите вариант ответа, где в одной из этих агломераций плотность населения наибольшая.</p> <p>А) Сан-Паулу                      Б) Мумбаи                      В) Шанхай                      Г) Нью-Йорк</p>	<p>В 16</p>										
<p>3. Выберите правильный вариант ответа.</p> <p>Этот город образует сейчас самую наименьшую по численности населения агломерацию из представленных в этом списке.</p> <p>А) Лондон                      Б) Джакарта                      В) Карачи                      Г) Манила</p>	<p>А + 16</p>										
<p>4. Как известно, в отдельных странах мира, их столицы несколько раз были перенесены из одного города в другой или переименованы.</p> <p>Установите соответствие между бывшими и современными столицами стран мира из предложенного списка.</p> <p>Запишите в ответ буквы, расположив их в порядке, соответствующем цифрам.</p> <table border="1"> <thead> <tr> <th>Бывшая столица</th> <th>Современная столица</th> </tr> </thead> <tbody> <tr> <td>1) Салвадор</td> <td>А) Варшава</td> </tr> <tr> <td>2) Тронхейм</td> <td>Б) Осло</td> </tr> <tr> <td>3) Краков</td> <td>В) Бразилиа</td> </tr> <tr> <td>4) Астана</td> <td>Г) Нур-Султан</td> </tr> </tbody> </table>	Бывшая столица	Современная столица	1) Салвадор	А) Варшава	2) Тронхейм	Б) Осло	3) Краков	В) Бразилиа	4) Астана	Г) Нур-Султан	<p>3 А +                      4 Г +                      1 В +                      2 Б +                      16</p>
Бывшая столица	Современная столица										
1) Салвадор	А) Варшава										
2) Тронхейм	Б) Осло										
3) Краков	В) Бразилиа										
4) Астана	Г) Нур-Султан										

5. Рассмотрите внимательно рисунок. Для какой страны характерна представленная половозрастная пирамида?



- А) Белоруссия  
 Б) Кения  
 В) Аргентина  
 Г) Франция

6. Какое из утверждений «Вид ресурса – Месторождение – Страна» является верным?

- А) железная руда – Керченское – Российская Федерация  
 Б) природный газ – Прадхо-Бей – Канада  
 В) железная руда – Экибастузский бассейн – Казахстан  
 Г) медная руда – Чукикамата – Китай

7. Производство этого текстильного волокна в последние годы быстро растет. Упаковка из него

В 16 В 05



<p>получает все большую популярность в пищевой промышленности и торговле как более экологичная альтернатива полиэтиленовым пакетам.</p> <p>Выберите верный вариант сочетания «Сельскохозяйственная культура для производства текстильного волокна – Крупнейший производитель (на уровне страны)».</p> <p>А) джут – Индия          Б) хлопчатник – Китай          В) лён – Российская Федерация          Г) кенаф – Индия</p>	<p>8. В каком из вариантов верно указано сочетание «Машиностроительная компания – Страна – Основные виды продукции?»</p> <p>А) General Electric – Соединённые Штаты Америки – железнодорожные локомотивы, энергетические установки, авиационные двигатели, медицинское оборудование, бытовая и осветительная техника          Б) Toyota Motor Corporation – Япония – автомобили, энергетические установки, газовые турбины, авиационные двигатели, медицинское оборудование          В) Daimler AG – Франция – легковые и грузовые автомобили          Г) Siemens AG – Германия – медицинское оборудование, бытовая и осветительная техника, легковые и грузовые автомобили.</p>	<p>9. Выберите правильный ответ.</p> <p>«Эта страна занимает первое место в мировом производстве электроэнергии. В структуре производства электроэнергии доля ТЭС составляет – 68,9%, ГЭС – 26,4%, АЭС и других источников – 4,7%».</p> <p>А) Российская Федерация</p>
--	--	--

Б  
06

А  
16

Г  
16

<p>Б) Норвегия          В) Япония          Г) Китай</p>	<p>10. Выберите группу стран, для которой характерна наибольшая плотность роботов в производстве (измеряется, например, как число роботов на 10 тысяч сотрудников).</p> <p>А) Германия (ФРГ) и Китай          Б) Великобритания и Франция          В) Республика Корея и Сингапур          Г) Соединённые Штаты Америки и Япония</p>	<p>11. Выберите группу стран, где существенную часть экспортных доходов получают от продажи кофе на экспорт.</p> <p>А) Китай и Бангладеш          Б) Вьетнам и Колумбия          В) Пакистан и Австралия          Г) Аргентина и Саудовская Аравия</p>	<p>12. Выберите группу стран, где самый высокий ВВП на душу населения.</p> <p>А) Российская Федерация и Италия          Б) Австралия и Объединённые Арабские Эмираты          В) Саудовская Аравия и Иран          Г) Испания и Республика Корея</p>	<p>13. В каком из указанных вариантов сочетание «Регион мира – Экологическая проблема» является верным?</p> <p>А) Северная Европа – выпадение кислотных осадков, нефтяное загрязнение акватории морей          Б) Южная Азия – разрушение берегов вследствие подтопления и поднятия уровня моря          В) Восточная Африка – промышленно-городское загрязнение атмосферы, деградация пастбищ          Г) Австралия – облесение, выпадение кислотных</p>
---	--	--	--	---



Г  
06



Б  
16

Б  
16

А  
16



дождей			
<p>14. В каком из указанных вариантов сочетание «Город – Достопримечательность» является верным?</p> <p>А) Барселона – Саграда Фамилия          Б) Нью-Дели – Тадж-Махал          В) Тель-Авив – Стена Плача          Г) Вена – Елисейские поля</p> <p>15. Установите соответствие между изображением герба страны и ее названием (географическим наименованием).          Запишите в ответ буквы, расположив их в порядке, соответствующем цифрам.</p>			
1		Название (географическое наименование) страны А) Мексика	A 16
2		Б) Антигуа и Барбуда	Г А Б В 06

3		В) Непал									
4		Г) Гаити									
<p>16. Всё большую популярность в настоящее время получает экологический туризм. Установите соответствие между направлением экологического туризма и регионами мира, в которых оно развивается. Запишите в ответ буквы, расположив их в порядке, соответствующем цифрам.</p> <table border="1"> <tr> <td>Направление экологического туризма</td> <td>Регионы мира</td> </tr> <tr> <td>1) «бёрдвотчинг»</td> <td>А) тропы инков в Перу</td> </tr> <tr> <td>2) треккинг</td> <td>Б) дождевые леса Коста-Рика</td> </tr> <tr> <td>3) туры по внутренним водам</td> <td>В) путешествие верхом по диким горам Сьерра-Невада</td> </tr> </table>				Направление экологического туризма	Регионы мира	1) «бёрдвотчинг»	А) тропы инков в Перу	2) треккинг	Б) дождевые леса Коста-Рика	3) туры по внутренним водам	В) путешествие верхом по диким горам Сьерра-Невада
Направление экологического туризма	Регионы мира										
1) «бёрдвотчинг»	А) тропы инков в Перу										
2) треккинг	Б) дождевые леса Коста-Рика										
3) туры по внутренним водам	В) путешествие верхом по диким горам Сьерра-Невада										







<p>В) По территории района протекают более 20 рек. Наиболее крупные из них – Бия, Неня. Основное направление экономики – сельское хозяйство. На территории района расположен угольный разрез. В районе проживают представители различных национальностей, где большинство составляют – русские, кумандинцы, немцы, украинцы, мордва, татары.</p>	3	
<p>Г) Этот район ранее назывался Старобардинским. Его территория расположена в междуречье Бии и Катунь в пределах холмисто-увалистой равнины. В районе проживают представители различных национальностей, где большинство составляют – русские, кумандинцы, немцы, украинцы, белорусы.</p>	4	